

臺北市中山區中山國民小學 一零九學年度第二學期 數學科 期中評量卷

得分：



一年 班 座號： 姓名：

一、對的畫○，錯的打×（是非題）：5%（每題1分）

(○) 1. 個位數字是7，十位數字是5，和57一樣大。

(×) 2. 80比50多30個十。

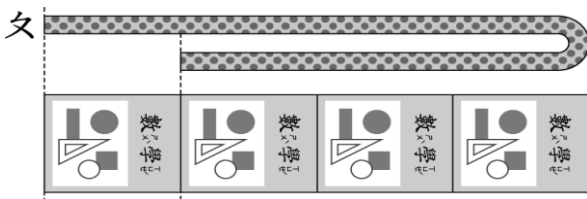
(○) 3. 在做長度的直接比較時，要先把比較物的一端對齊，再比較另一端的長短。

(○) 4.  和 ，是一樣的圖形，都是正方形。

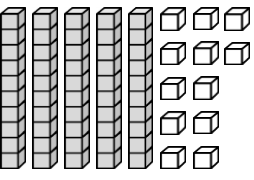
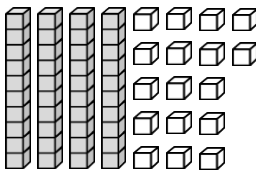
(×) 5. 算式 $9 + 8 = 17$ 中，8稱為被加數。

二、填填看看：30%（每格1分）

1. 繩長是(7)本數學課本。



2. 先在()中寫出積木代表的數，再比較大小，大的在□內打✓，小的打×。

(1)  (62) 個	✓	(2)  (57) 個	×
--	---	--	---

3. 10個一和9個十合起來是(100)，和(10)個十一樣多。

4. 依照規律，填入數字。

(1) $34 - 36 - (38) - (40) - 42 - (44)$

(2) $25 - (30) - 35 - 40 - (45)$

(3) $(69) - (79) - 89 - 99$

5. 先想一想，再填填看看。


$18 - 9 = (9)$	$6 + 5 = (11)$
$17 - 9 = (8)$	$6 + 6 = (12)$
$16 - 9 = 7$	$6 + 7 = 13$
$15 - 9 = (6)$	$6 + 8 = (14)$
$14 - 9 = (5)$	$6 + 9 = (15)$

6. 下圖是百數表的一部分。

*		45		48	49	
53	54	55				
		#			69	70

圖中*是(43)，#是(66)

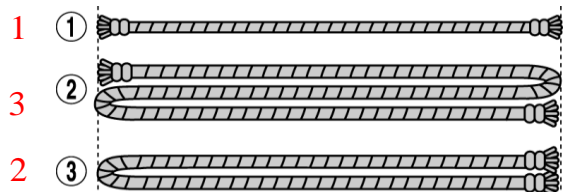
7. 看圖寫出算式。



比多幾個？


$(13) - (9) = (4)$

8. 由短到長寫出1、2、3。



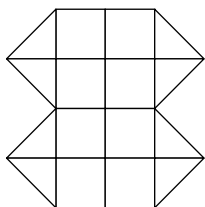
三、看圖回答問題：36% (每答2分)

1. 左邊圖的圖形移動了哪一塊三角圖形圖卡，才能變成右邊的圖形？在□中打√。

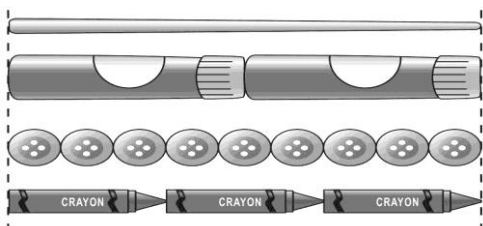


□A □B □C D

2. 每個□是用2個△排成的，下圖是用(24)個△排成的。




3. 看圖回答問題。



- (1) 和(2)瓶一樣長；
又和(9)個一樣長；
也和(3)枝一樣長。
- (2) 一枝和(3)個一樣長。

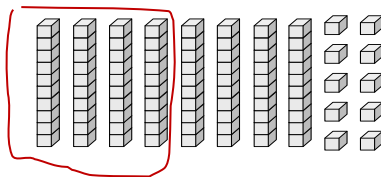
4. 一籃蘋果有10顆。



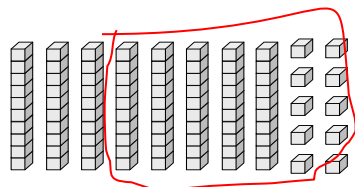
上面有(72)顆蘋果，吃掉1籃，
剩下(62)顆蘋果；再吃掉
1顆，剩下(61)顆蘋果。

5. 請圈出下面正確的數量。

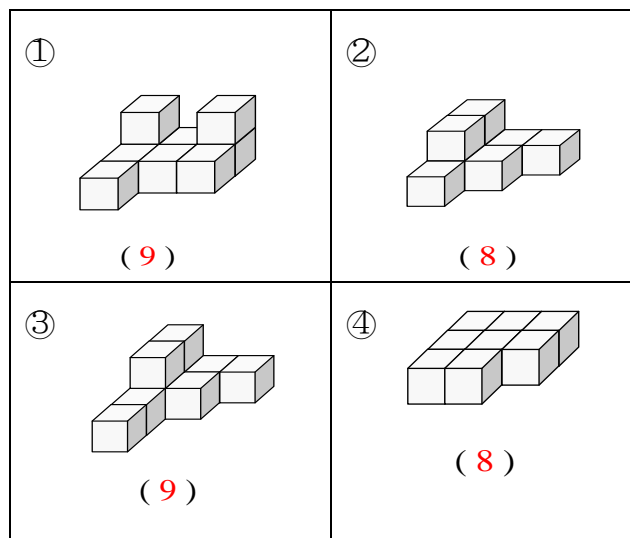
(1)40



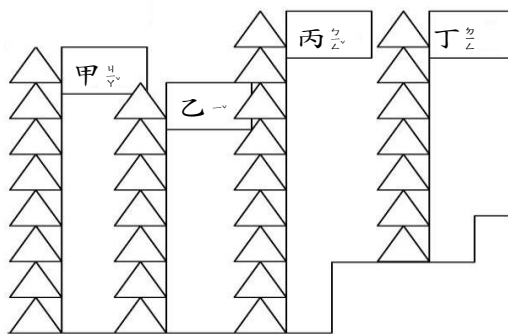
(2)59



6. 下面圖形是用幾個積木排出來的？



7. 看圖回答問題。(填代號)

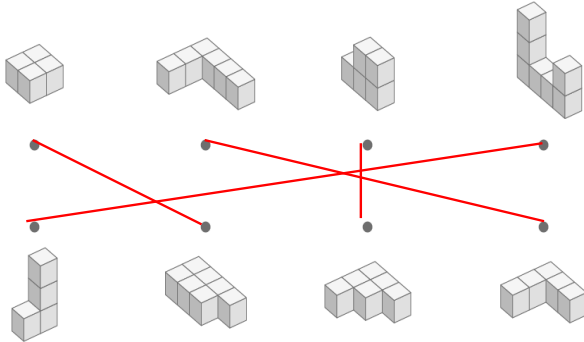


- (1) (乙)旗和(丁)旗一樣高
(2) 丙旗比丁旗高(2)個三角。

座號 姓名

四、連連看：17% (每題 1 分)

1. 將上、下圖形合起來是 11 個的連起來



2. 把答案一樣算式連起來。

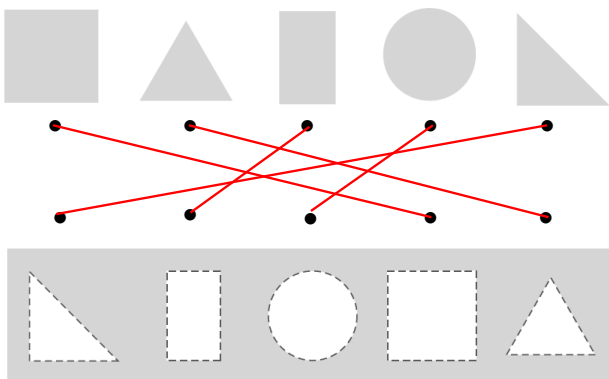
①

① 12-5	↗ ↘	ㄅ 12-4
② 16-8	↖ ↗	ㄆ 18-9
③ 11-2	↖ ↘	ㄏ 11-4
④ 13-7	↔	ㄏ 14-8

②

① 10+7	↗ ↘	⑤ 8+7
② 4+9	↖ ↗	⑥ 7+9
③ 7+8	↖ ↘	⑦ 7+10
④ 9+7	↔	⑧ 9+4

3. 上排的圖形是從哪裡剪下來的？連連看



五、寫出算式和答案。 12% (每題 3 分)

1. 一本字典的長邊和 6 個橡皮擦一樣長，兩本相同字典的長邊合起來和幾個橡皮擦一樣長？

算式： $6+6=12$

(12) 個橡皮擦

2. 奶奶買了 6 個雞蛋糕，媽媽又買了 8 個雞蛋糕，結果都被哥哥吃掉，哥哥一共吃掉了幾個雞蛋糕？

算式： $6+8=14$

(14) 個雞蛋糕

3. 公車上有 7 個空位，上來 15 個人，有幾個人需要站著的？

算式： $15-7=8$

(8) 個人

4. 米妮的丸子湯裡有 16 顆丸子，妹妹的丸子湯裡有 9 顆丸子，米妮比妹妹多幾顆丸子？

算式： $16-9=7$

多 (7) 顆丸子