


一、填填看看：（每格 2 分，共 36 分）


- 427→417→(407)→397
- (795)→805→815→825
- 7 個百、14 個十和 9 個一，合起來是(849)。
- 1000 可以換(9)張 100 和 10 個 10。
- 用 5、9、0 這三張數字卡，排出最大的三位數是(950)，最小的三位數是(509)。
- 在 □ 裡填入 >、< 或 =
 898 < 905 460 > 406
- 用 100、10 或 1 畫出 637 元。(略)



- 10 個百是(1000)
- 2 公尺 = (200) 公分
- 870 公分 = (8) 公尺 (70) 公分
- 3 公尺 5 公分 = (305) 公分
- 1×7=(7)
- (8)×9=9×8
- (0)×4=0
- 2×11=(22)

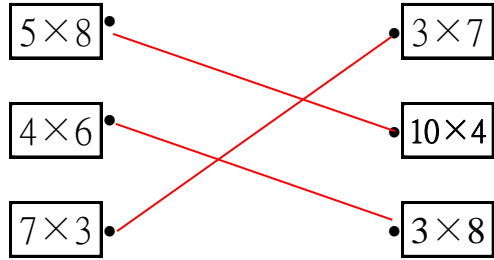
二、看圖回答問題：（每格 1 分，共 6 分）

1. 下圖中一共有幾顆蘋果？請寫出兩種不同的乘法算式。



- (5) × (7) = (35)
- (7) × (5) = (35)

三、連連看看：（每個答案 1 分，共 3 分）



四、圈出合理的答案：（每個答案 2 分，共 6 分）

- 爸爸的身高大約是 175 (公分) 公尺。
- 課本的寬度大約是 20 (公分) 公尺。
- 黑板的長度大約是 4 (公分) 公尺。

五、將下面長度由長到短，在 □ 裡填入 1、2、3。（每格 1 分，共 3 分）

- 3 560 公分
- 2 5 公尺 68 公分
- 1 6 公尺

六、記記看看：（每格 2 分，共 20 分）

1. 下面是 2 年甲班期中考的數學考試分數紀錄表，請看紀錄表回答問題。

數學考試分數						
及格					不及格	
100	99	89	79	69	59	50
分	分	分	分	分	分	分
	90	80	70	60	50	以下
	分	分	分	分	分	分
3	10	5	3	2	1	1
人	人	人	人	人	人	人

- 班上有沒有人考 100 分？(有)，沒有
- 及格的人數共有(23)人，不及格的人數共有(2)人。
- 全班共有(25)人。

★ 請翻面，後面還有題目！

2. 下表是奇奇的積木分類統計表，請看表回答問題。

愛心圖樣			花朵圖樣		
紅色	黃色	白色	紅色	黃色	白色
8 個	8 個	2 個	10 個	7 個	3 個

(1) 奇奇把積木分成二類，分別是(**愛心**)圖樣和(**花朵**)圖樣。

(2) 愛心圖樣的積木中，(**紅**)色和(**黃**)色的數量一樣多。

(3) 花朵圖樣的積木中，(**白**)色的數量最少。

(4) 花朵圖樣的積木數量比愛心圖樣的積木數量(**多**)，少)。**【圈出正確答案】**

七、用直式計算看看：(每題答案 2 分，共 8 分)

(1) $362 + 57 = (419)$	(2) $694 + 109 = (803)$
(3) $247 - 38 = (209)$	(4) $850 - 215 = (635)$

八、把做法和答案記下來：(每題答案 3 分，共 18 分)

1. 姐姐跟弟弟在比賽摺紙星星，弟弟摺了 697 個，比姐姐少 138 個，姐姐摺了幾個紙星星？

$$697 + 138 = 835$$

答：835 個

2. 到遊樂園玩，買一張全票要 250 元，兒童票比全票便宜 115 元，請問一張兒童票是幾元？

$$250 - 115 = 135$$

答：135 元

3. 農場上有 186 隻牛，羊比牛多 43 隻，農場上有幾隻羊？

$$186 + 43 = 229$$

答：229 隻

4. 先估估看，再計算。媽媽有 503 元，去超市買了一包米 199 元，大約還剩下幾百元？

$$500 - 200 = 300$$

答：300 元

5. 真真的家距離學校有 145 公尺，她每天上學和放學共要走幾公尺？

$$145 + 145 = 290$$

答：290 公尺

6. 冬冬每天存 10 元，7 天可以存幾元？(請用乘法算式計算看看。)

$$10 \times 7 = 70$$

答：70 元

★ 寫完後，請再檢查！